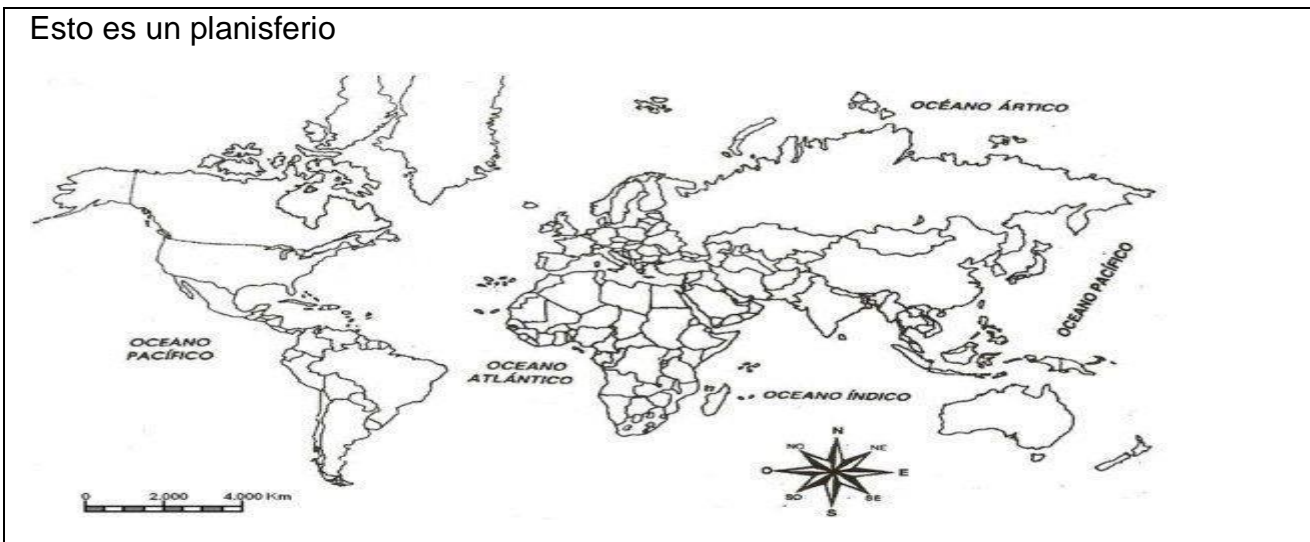


SEGUNDO SEMESTRE		
Guía de Aprendizaje N°2		
Historia		
Primero Básico		
Nombre		Fecha: Semana del 07 al 11 septiembre.
OA9	- Identificar a Chile en mapas, incluyendo la cordillera de los Andes, el océano Pacífico, su región, su capital y su localidad.	
Indicadores	- Localizan y colorean Chile en un mapamundi. - Ubican y colorean la cordillera de los Andes y el océano Pacífico en un mapa de Chile.	
Contenido	Ubican y localizan Chile y otros elementos.	

Con ayuda de un adulto lee la siguiente información y luego desarrolla las actividades:

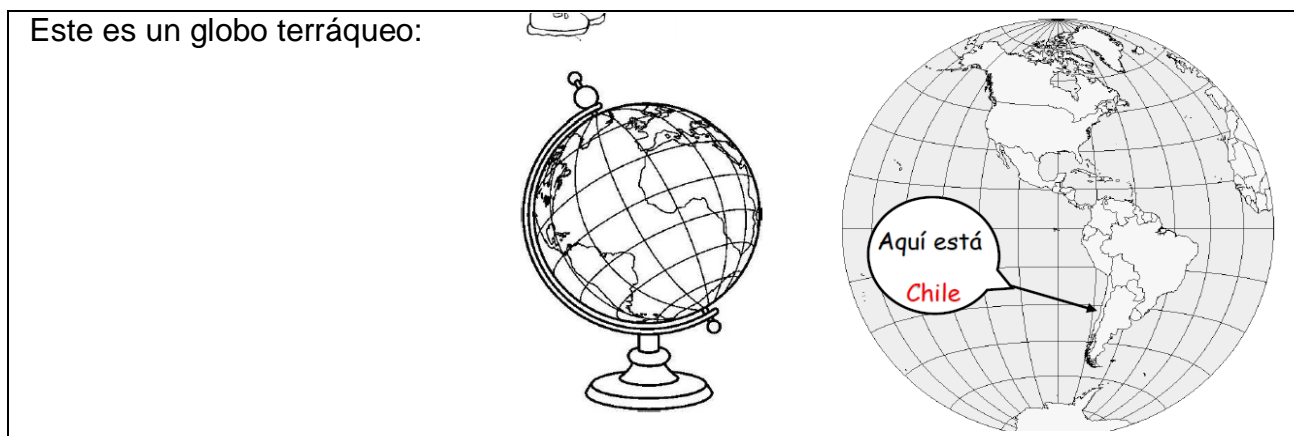
Los mapas son representaciones planas de la superficie de la Tierra de forma completa o parte de ella. Un mapa que presenta completa la superficie de la Tierra se llama Planisferio.

Esto es un planisferio



El globo terráqueo es la representación que más se parece a la forma de nuestro planeta.


Este es un globo terráqueo:



1.- Ubica a Chile en cada representación y píntalo de color rojo.



2.- Lee las siguientes indicaciones y desarrolla la actividad:

1. Pinta la silueta de **Chile** con un color.
2. Marca la capital, **Santiago**, con un punto rojo y escribe su nombre.
3. Pinta el mar celeste.
4. Escribe el nombre del **océano Pacífico**.
5. Dibuja pequeñas  que representen la **cordillera de los Andes** a lo largo de todo el límite, a la derecha de la silueta de Chile.
6. Escribe el nombre de la cordillera de los Andes, cerca de las montañas.



3.- Actividad complementaria en donde encontraras más información y actividades para trabajar sobre los mapas de Chile en el Libro de Historia en las páginas: 82 a la 87.

Ticket de salida

1.- Identifica en el planisferio a Chile pintándolo de color rojo.



2.- Pinta la cordillera de los Andes de color café y el Océano Pacífico azul.

