

SEGUNDO SEMESTRE		
Guía de Aprendizaje N°2 Matemática Primero Básico		
Nombre		Fecha: Semana del 07 al 11 septiembre.
OA14	Identificar en el entorno figuras 3D y figuras 2D y relacionarlas, usando material concreto.	
Indicadores	Reconocer figuras 2D y 3D	
Contenido	Figuras 2D y 3D.	

Con ayuda de un adulto vamos a trabajar las figuras geométricas.

1.- Observa estas figuras ¿las recuerdas?, nómbralas en voz alta y luego une los puntos que las forman con tu lápiz rojo sin salirte.

FIGURAS 2D



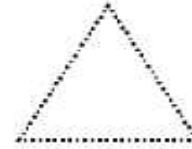
Cuadrado



Círculo

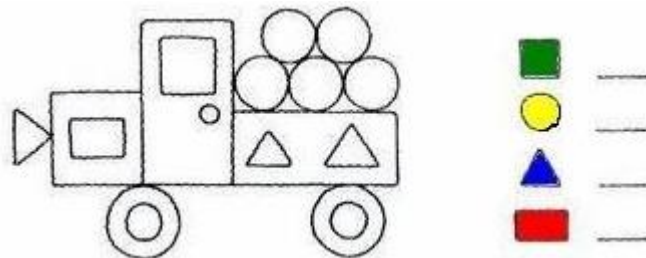


Rectángulo





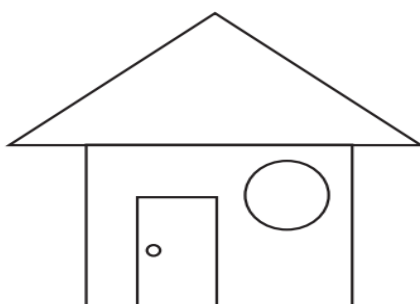

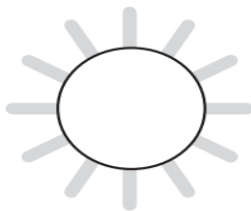
Triángulo

2.- Observa, este camión, está formado por figuras geométricas que debes pintar del color que se indica al lado, luego cuenta cuantas hay de cada una y escribe el número.



3.- Pinta cada figura con el color indicado. Descubre cual te gusta más y cuenta ¿por qué?

- Azul
- Rojo
- Verde



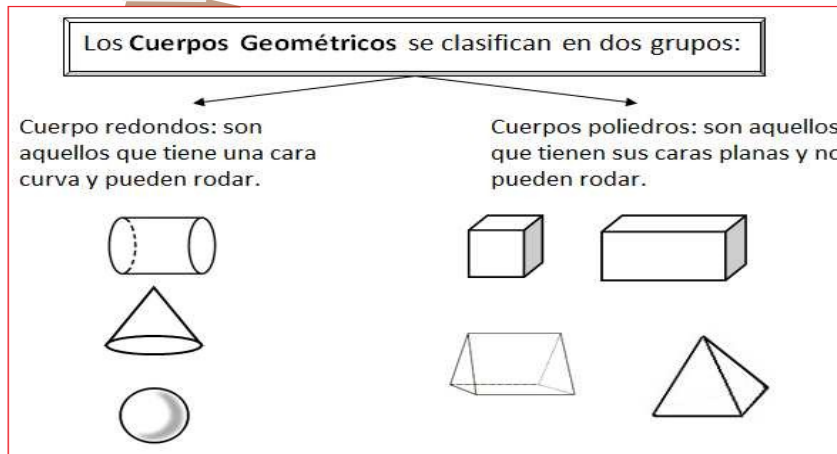
4.- Observa estos objetos. ¿tienen algunos de ellos en tu casa?

Nombra todos los objetos que hay, luego identifica los que pueden rodar marcándolos con una X:

FIGURAS 3D




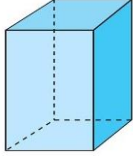
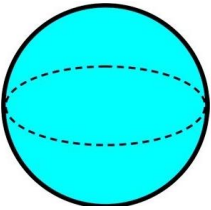
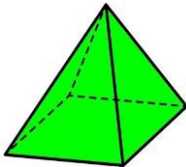


Aprendiendo:


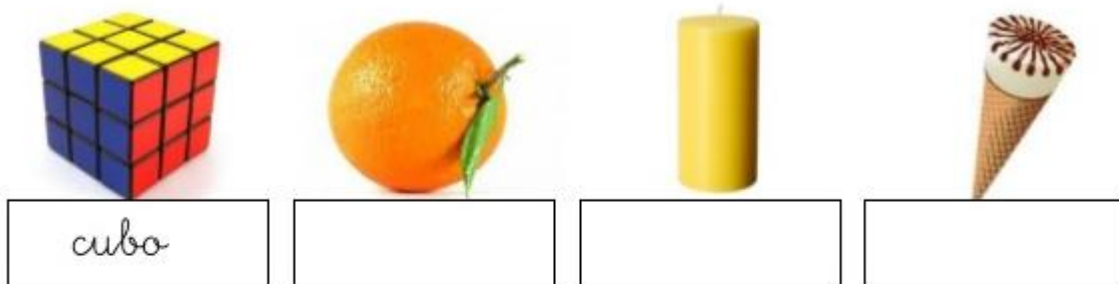



5.- Observa las figuras 2D y 3D y escribe sus nombres (pide ayuda si la necesitas al adulto que te acompaña):

 2D	 2D
 3D	 3D

 2D	 2D
 3D	 3D
 3D	 3D

6.- Observa los cuerpos geométricos (3D) y los objetos que están abajo. Luego escribe el nombre del cuerpo con que se relaciona cada objeto.





7.- Ahora vamos a trabajar en el texto del estudiante desde la página 69 a la 72, en ellas observaremos distintos envases, sus caras y formas de figuras geométricas, identificarán los que pueden rodar de los que no pueden, reforzará las figuras 3D.

No olvides enviar el ticket de salida al wasap de la profesora.

Ticket de salida

Une cada figura 2D con la figura 3D utilizada para trazar.