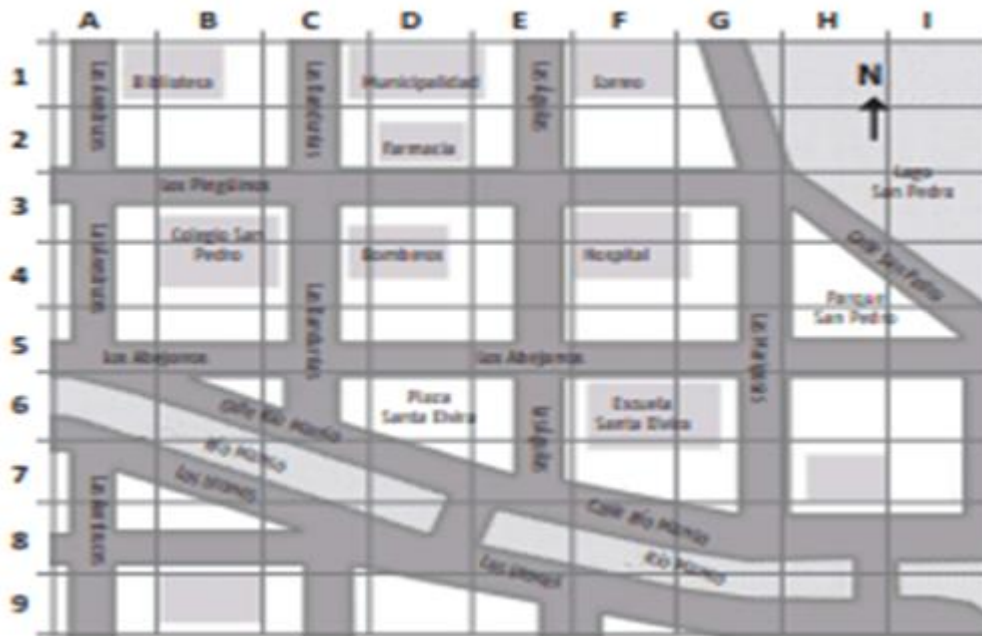


Guía N°4 Historia, Geografía y Ciencias Sociales Tercero básico	
Nombre:	Fecha: SEMANA 4 (del 6 al 9 de abril)
OA6:	Ubicar personas, lugares y elementos en una cuadrícula, utilizando líneas de referencia y puntos cardinales.
Indicador(es):	1. Usan líneas de referencia en una cuadrícula para ubicar elementos. 2. Ubican puntos específicos en una cuadrícula, siguiendo instrucciones.

DONDE YO VIVO











- (1) Dibuja en el mapa
 - Tu casa en el B9
 - Un supermercado en el H7

- (2) Responde qué edificio o edificios hay:
 - En el F6
 - En el D2
 - Al Oeste de los Bomberos
 - Al Este de la municipalidad
 - Al sur del correo
 - Al norte de la plaza Santa Elvira

- (3) Imagina que tu amiga está en la biblioteca y debe ir a la Escuela Santa Elvira, Pinta el recorrido que debe seguir en el mapa. Escribe las indicaciones que le diste usando los puntos cardinales



Observa la siguiente cuadrícula, luego escribe las ubicaciones de los elementos solicitados.

	A	B	C	D	E	F	G	H	I	J
1										
2										
3										
4										
5										
6										
7										
8										
9										
10										

EJEMPLO



C - 2























Crea tu propia simbología y dibujala en las coordenadas solicitadas.

	A	B	C	D	E	F	G	H	I	J
1										
2										
3										
4										
5										
6										
7										
8										
9										
10										

EJEMPLO



1 - A