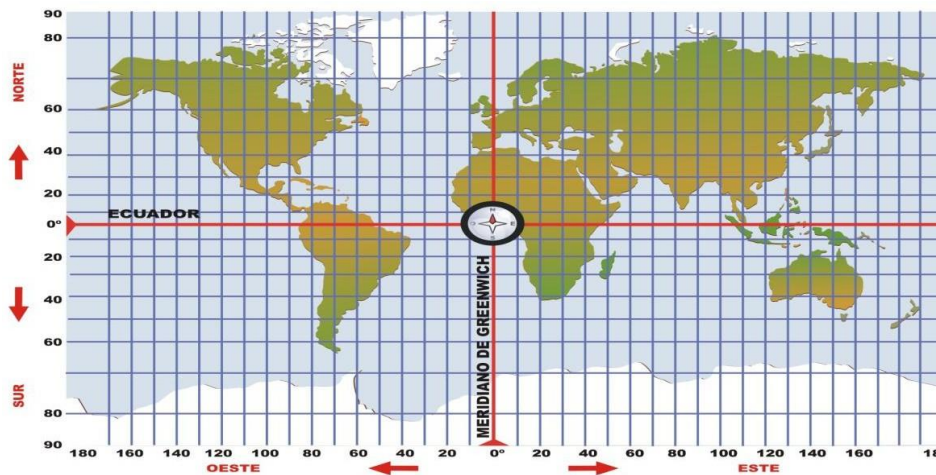
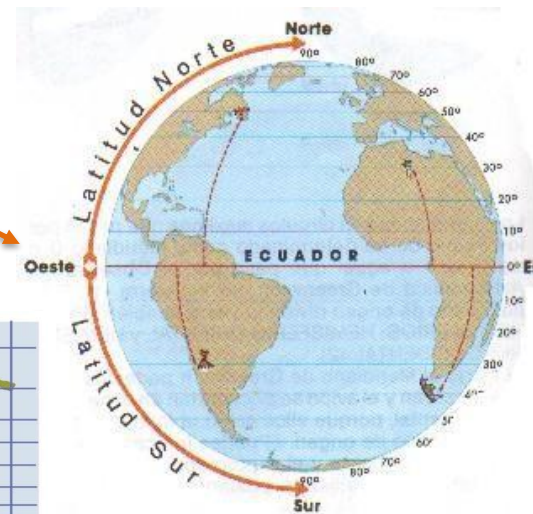


GUÍA N°4: UBICACIÓN GEOGRÁFICA
Cuarto básico A
Historia y Ciencias Sociales

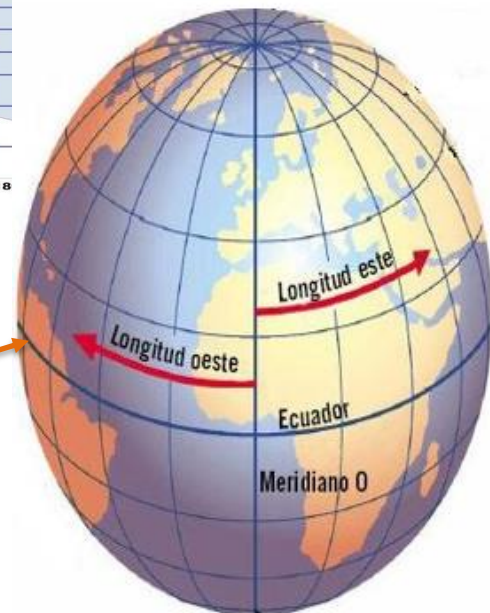
Nombre:	Fecha: SEMANA 4 (del 6 al 9 de abril)
Unidad: I	
OA 6	Ubicar lugares en un mapa, utilizando coordenadas geográficas como referencia (paralelos y meridianos).
Indicador:	- Localizan algunos países del mundo o de América, indicando su latitud y longitud.

RECORDEMOS LO DE LA SEMANA PASADA

- **La Latitud:** es la distancia que existe entre un punto cualquiera y el Ecuador



- **La Longitud:** es la distancia que existe entre un punto cualquiera y el Meridiano de Greenwich.



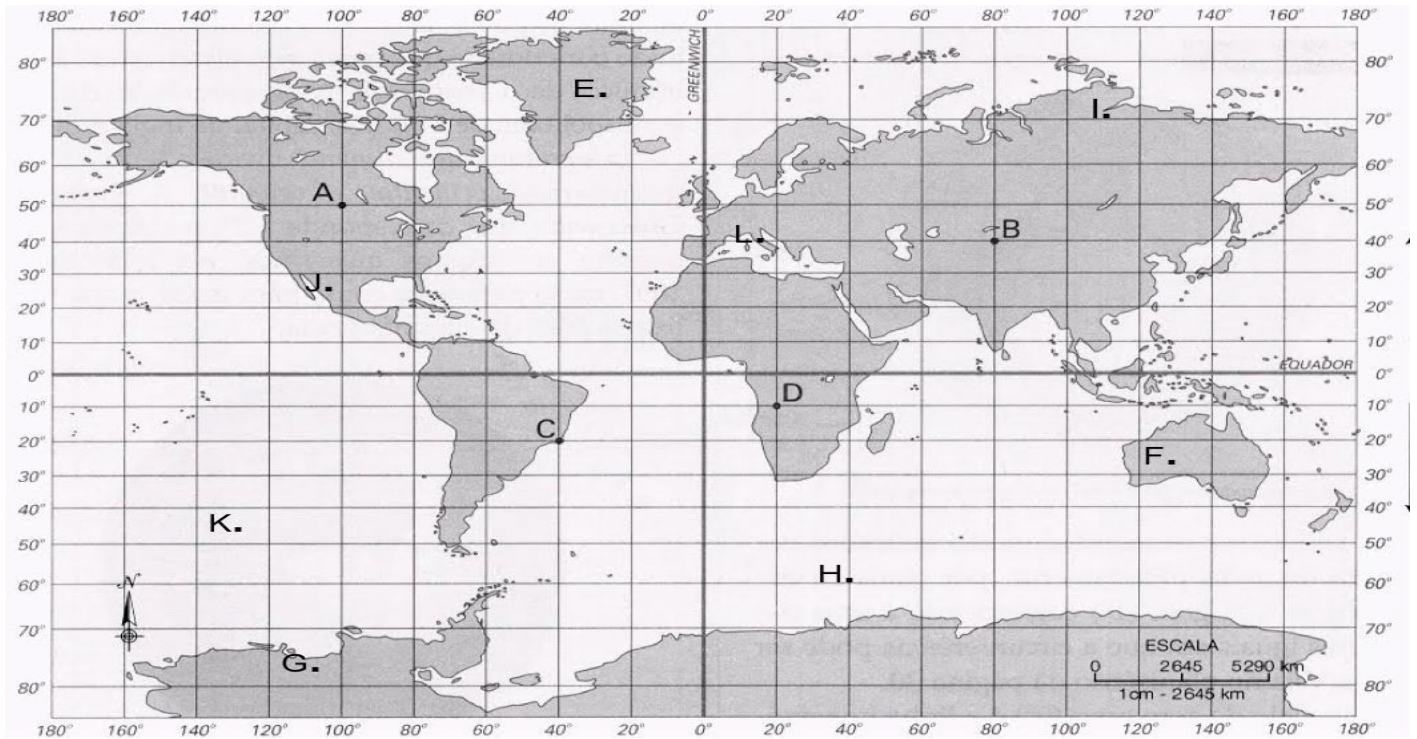


Entonces manos a la obra

Actividad



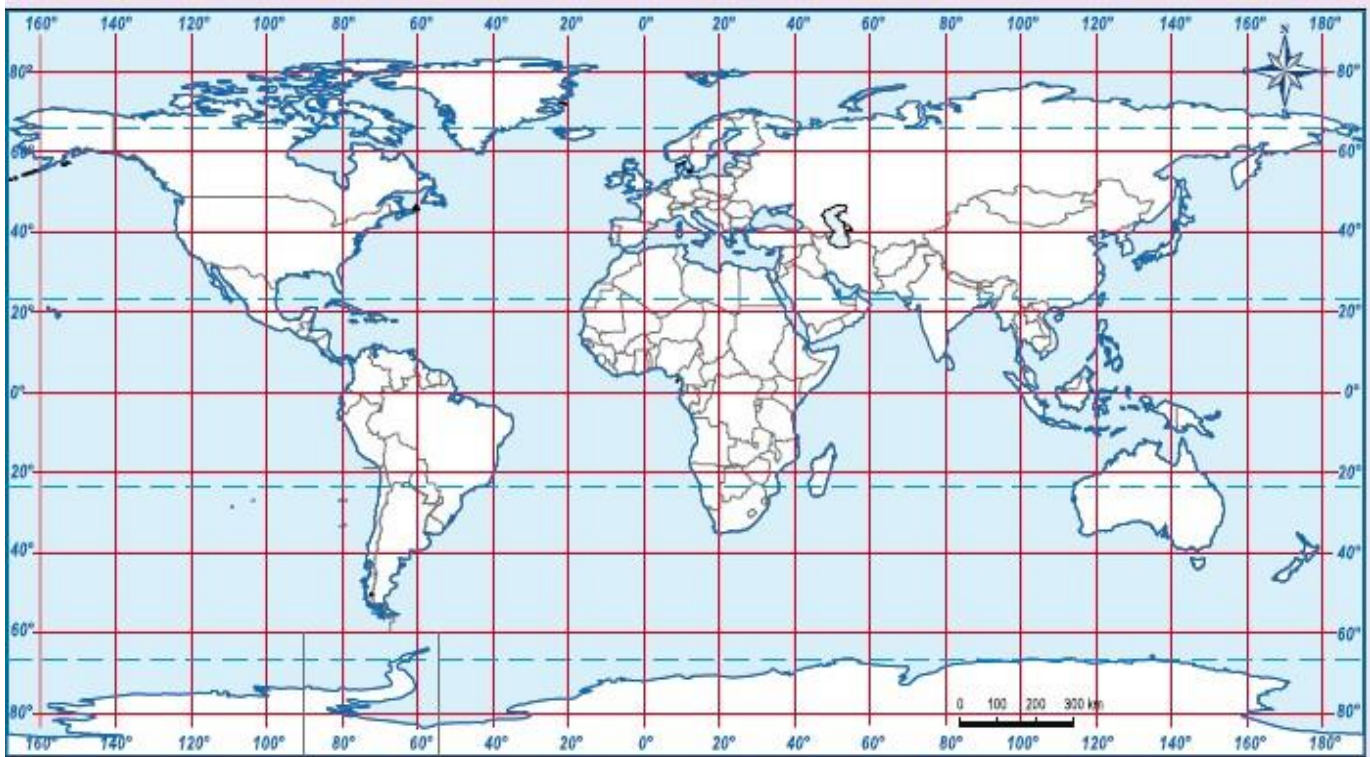
1. Anota la latitud y la longitud aproximada de los lugares señalados con letras en el planisferio.



Letra	Latitud	Longitud	País	Letra	Latitud	Longitud	País
A				G			
B				H			
C				J			
D				K			
E				L			
F							



2. En el presente planisferio ubica las siguientes coordenadas anotando un punto con su correspondiente número.



Fuente: texto de Historia, geografía y ciencias sociales, 3º año de educación básica, editorial grupo norma, 2009

Nº	Latitud	Longitud
1	60° Norte	120° Oeste
2	10° Norte	100° Este
3	50° Sur	10° Oeste
4	20° Norte	80° Este
5	40° Norte	10° Oeste
6	80° Sur	80° Oeste
7	20° Sur	40° Oeste